



لبسمه تعالی

نام درس: ریاضی

پایه: سوم

تاریخ امتحان: ۱۴۰۱/۱۰/۲۷

دبستان غیر انتفاعی اندیشمندان پیشرو

نام و نام خانوادگی معلم: محبوبه گنجی

نام:

نام خانوادگی:

ردیف پیامبر اکرم(ص): « نیکوکاری کامل آن است که در نهان همان را انجام دهی که در آشکارا انجام می دهی »
پسرم با دقت و تمرکز به سوالات زیر پاسخ بده .

جمع دو عدد که حاصل جمع آنها ۸ می شود را به چند حالت می توان نوشت؟

۱

جدول زیر را کامل کن .

زمان		بیست و ربع	۱۳:۱۸	
بعد از ظهر	◆◆ ۳:۰۰			◆ نه و نیم

۲

جاهای خالی را کامل کن .

۴۰۰۰ متر یعنی کیلومتر

هر ۱۰۰۰ تومان ریال است .

عدد ۵۴۵۶ یعنی یکی ده تایی صدتایی و هزارتایی

باز شده ی عدد : ۴۰۳۷ →

۳

دایره شعاع دارد .

برای تشخیص زاویه راست از استفاده می کنیم.

یک فروشنده دفتری را به قیمت ۷۰۰ تومان می خرد و ۸۰۰ تومان می فروشد . این فروشنده با فروش هر دفتر چند تومان سود می کند؟

الف) اگر ۶ دفتر بفروشد چند تومان سود می کند؟

ب) چند دفتر بفروشد تا با سود آن یک دفتر بخرد؟

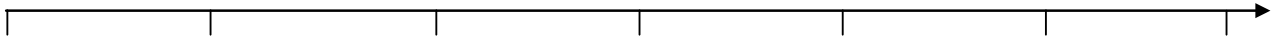
۴

تعداد دفتر	۱	۲	۳	۴	۵	۶	۷	۸
سود								

عددهای زیر را به صورت تقریبی روی محور نشان بده .

۲۰۶۰ - ۵۳۹۰ - ۷۰۰

۵

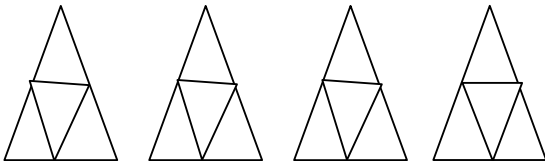


برای تساوی زیر شکل بکش .

۶

کسر شکل مقابل را بنویس .

۷



کسر های زیر را نشان بده .

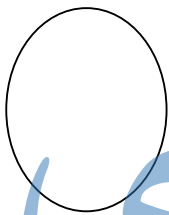
۳۴

- واحد قبل از عدد ۴



۱۴

- ساعت بعد از ساعت دو نیم



۸

مقایسه کن .

۹۶۰۹ ○ ۹۰۰۹

۹۵ ○ ۳۵
- -

۷۳ ۷۶
- واحد و - واحد و ۳ واحد و ۳ واحد و

۹

$3 \times 4 =$

ضرب زیر را به روش های خواسته شده نشان بده و پاسخ آن را بنویس.
.....دسته تا بی

شمارش چند تا چند تا	شکل
جمع	مستطیل
	محور

۱۰

جزوه سیپی